


# Sachrechnen

## Klasse 2



**Multiplikation und Division**  
**Kleines Einmaleins**

# Inhaltsverzeichnis

## MULTIPLIKATION

10er Reihe	Seite 1 + 2
5er Reihe	Seite 3 + 4
2er Reihe	Seite 5 + 6
Das Doppelte	Seite 7 + 8
4er Reihe	Seite 9 + 10
8er Reihe	Seite 11 + 12
3er Reihe	Seite 13 + 14
6er Reihe	Seite 15 + 16
9er Reihe	Seite 17 + 18
7er Reihe	Seite 19 + 20

## DIVISION

10er Reihe	Seite 21 + 22
5er Reihe	Seite 23 + 24
2er Reihe	Seite 25 + 26
Die Hälfte	Seite 27 + 28
4er Reihe	Seite 29 + 30
8er Reihe	Seite 31 + 32
3er Reihe	Seite 33 + 34
6er Reihe	Seite 35 + 36
9er Reihe	Seite 37 + 38
7er Reihe	Seite 39 + 40

In einer Packung Eier sind 10 Stück.

Mama kauft 3 Packungen. Wie viele Eier sind das?


1

Skizze

R							
<hr/>							
<hr/>							
<hr/>							

In einer Packung Eier sind 10 Stück.

Oma kauft 8 Packungen. Wie viele Eier sind das?



Skizze

R							
<hr/>							
<hr/>							
<hr/>							

In einer Packung Eier sind 10 Stück.

Tante Ida kauft 5 Packungen. Wie viele Eier sind das?

Skizze

R							
<hr/>							
<hr/>							
<hr/>							

Eine DVD kostet 10 Euro. Lina kauft sich 2 DVDs.  
Wie viel muss sie bezahlen?

Skizze

R							



Eine DVD kostet 10 Euro. Tamara kauft sich 5 DVDs.  
Wie viel muss sie bezahlen?



Skizze

R							



Eine DVD kostet 10 Euro. Peter kauft sich sieben DVDs.  
Wie viel muss er bezahlen?

Skizze

R							

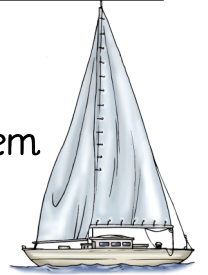


In einem Segelboot sitzen 5 Personen. Heute sind auf dem See 6 Boote unterwegs. Wie viele Personen sind das?

Skizze

R							

In einem Segelboot sitzen 5 Personen. Heute sind auf dem See 4 Boote unterwegs. Wie viele Personen sind das?



Skizze

R							

In einem Segelboot sitzen 5 Personen. Heute sind auf dem See 8 Boote unterwegs. Wie viele Personen sind das?

Skizze

R							

Jeder Schüler muss heute 5 Sachaufgaben rechnen. In der Klasse sind 8 Kinder. Wie viele Rechnungen sind das?

Skizze

R							




Jeder Schüler muss heute 5 Sachaufgaben rechnen. In der Klasse sind 10 Kinder. Wie viele Rechnungen sind das?

Skizze

R							


Jeder Schüler muss heute 5 Sachaufgaben rechnen. In der Klasse sind 9 Kinder. Wie viele Rechnungen sind das?

Skizze

R							


An der Wäscheleine hängen 7 Paar Socken.  
Wie viele Socken sind das?

Skizze

R								



An der Wäscheleine hängen 6 Paar Socken.  
Wie viele Socken sind das?



Skizze

R								



An der Wäscheleine hängen 4 Paar Socken.  
Wie viele Socken sind das?

Skizze

R								



Der Schuhmacher hat heute 3 Paar Schuhe repariert.  
Wie viele Schuhe sind das?

Skizze

R							

Der Schuhmacher hat heute 5 Paar Schuhe repariert.  
Wie viele Schuhe sind das?



Skizze

R							

Der Schuhmacher hat heute 8 Paar Schuhe repariert.  
Wie viele Schuhe sind das?

Skizze

R							



Rebecca isst 2 Kugeln Eis. Ihr Bruder isst doppelt so viele.  
Wie viele Kugeln isst er?

Skizze

R							





Sabrina isst 4 Kugeln Eis. Ihr Bruder isst doppelt so viele.  
Wie viele Kugeln isst er?

Skizze

R							



Maria isst 3 Kugeln Eis. Ihr Bruder isst doppelt so viele.  
Wie viele Kugeln isst er?

Skizze

R							



Mama kauft eine Torte. Sie bezahlt 7 Euro. Oma bezahlt das Doppelte für ihre Torte. Wie viel bezahlt sie?

Skizze

R							





Mama kauft eine Torte. Sie bezahlt 9 Euro. Oma bezahlt das Doppelte für ihre Torte. Wie viel bezahlt sie?

Skizze

R							



Mama kauft eine Torte. Sie bezahlt 8 Euro. Oma bezahlt das Doppelte für ihre Torte. Wie viel bezahlt sie?

Skizze

R							




Ein Hund hat 4 Beine. Wie viele Beine haben 3 Hunde?

Skizze

R							





Ein Pferd hat 4 Beine. Wie viele Beine haben 5 Pferde?

Skizze

R							



Eine Katze hat 4 Beine. Wie viele Beine haben 4 Katzen?

Skizze

R							




Ein Tisch hat 4 Beine. Wie viele Beine haben 10 Tische?

Skizze

R							





Ein Stuhl hat 4 Beine. Wie viele Beine braucht man für 7 Stühle?

Skizze

R							



Ein Stuhl hat 4 Beine. Wie viele Beine braucht man für 8 Stühle?

Skizze

R							



Mama macht für die Geburtstagsparty kleine Säckchen mit Murmeln. In jedes Säckchen kommen 8 Murmeln. Wie viele Murmeln braucht sie für 7 Säckchen?

Skizze

R							



Mama macht für die Geburtstagsparty kleine Säckchen mit Murmeln. In jedes Säckchen kommen 8 Murmeln. Wie viele Murmeln braucht sie für 5 Säckchen?



Skizze

R							



Mama macht für die Geburtstagsparty kleine Säckchen mit Murmeln. In jedes Säckchen kommen 8 Murmeln. Wie viele Murmeln braucht sie für 9 Säckchen?

Skizze

R							




Ein Mittagsmenü im Restaurant kostet 8 Euro.  
Wie viel muss eine 4 köpfige Familie bezahlen?

Skizze

R							





Ein Mittagsmenü im Restaurant kostet 8 Euro.  
Wie viel muss eine 6 köpfige Familie bezahlen?

Skizze

R							



Ein Mittagsmenü im Restaurant kostet 8 Euro.  
Wie viel muss eine 3 köpfige Familie bezahlen?


Skizze

R							



In einer Schachtel sind 3 Muffins. Wie viele Muffins sind in 4 Schachteln?

Skizze




R							



In einer Schachtel sind 3 Muffins. Wie viele Muffins sind in 10 Schachteln?



Skizze



R							



In einer Schachtel sind 3 Muffins. Wie viele Muffins sind in 8 Schachteln?

Skizze



R							




Für eine Portion Rührei braucht Mama 3 Eier.  
Wie viele Eier braucht sie für 5 Portionen?

Skizze

R							





Für eine Portion Rührei braucht Mama 3 Eier.  
Wie viele Eier braucht sie für 7 Portionen?

Skizze

R							



Für eine Portion Rührei braucht Mama 3 Eier.  
Wie viele Eier braucht sie für 9 Portionen?

Skizze

R							





Ein LKW hat 6 Reifen. Wie viele Reifen haben 4 LKWs?

Skizze

R							





Ein LKW hat 6 Reifen. Wie viele Reifen haben 10 LKWs?

Skizze

R							



Ein LKW hat 6 Reifen. Wie viele Reifen haben 6 LKWs?

Skizze

R							



Der Koch schneidet die Pizza in 6 Stücke. Wie viele Stücke sind 3 Pizzas?

Skizze

R							





Der Koch schneidet die Pizza in 6 Stücke. Wie viele Stücke sind 5 Pizzas?

Skizze

R							



Der Koch schneidet die Pizza in 6 Stücke. Wie viele Stücke sind 8 Pizzas?

Skizze

R							



Auf einem großen Parkplatz stehen 9 Autos in einer Reihe.  
Wie viele Autos sind in 3 Reihen?

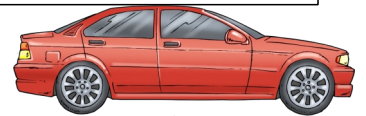
Skizze



R							


  

Auf einem großen Parkplatz stehen 9 Autos in einer Reihe.  
Wie viele Autos sind in 5 Reihen?

Skizze



R							


Auf einem großen Parkplatz stehen 9 Autos in einer Reihe.  
Wie viele Autos sind in 6 Reihen?

Skizze




R							


Im Gemüsebeet sind 7 Salatköpfe in einer Reihe.  
Wie viele Salate sind in 4 Reihen?

Skizze




R							





Im Gemüsebeet sind 7 Salatköpfe in einer Reihe.  
Wie viele Salate sind in 8 Reihen?

Skizze




R							



Im Gemüsebeet sind 7 Salatköpfe in einer Reihe.  
Wie viele Salate sind in 9 Reihen?

Skizze



R							



Mama muss an einem Tag 6mal die Windeln des Babys wechseln. Wie viele Windeln braucht sie in einer Woche?

Skizze

R							



Mama muss an einem Tag 8mal die Windeln des Babys wechseln. Wie viele Windeln braucht sie in einer Woche?



Skizze

R							



Mama muss an einem Tag 7mal die Windeln des Babys wechseln. Wie viele Windeln braucht sie in einer Woche?

Skizze

R							




Der Konditor backt jeden Tag 5 Kuchen.  
Wie viele Kuchen sind das in einer Woche?

Skizze

R							





Der Konditor backt jeden Tag 10 Kuchen.  
Wie viele Kuchen sind das in einer Woche?

Skizze

R							



Der Konditor backt jeden Tag 9 Kuchen.  
Wie viele Kuchen sind das in einer Woche?


Skizze

R							




Der Bauer hat 80 Eier. Er verpackt sie in 10er Schachteln.  
Wie viel Schachteln werden voll?

Skizze



R							





Der Bauer hat 60 Eier. Er verpackt sie in 10er Schachteln.  
Wie viel Schachteln werden voll?

Skizze




R							



Der Bauer hat 100 Eier. Er verpackt sie in 10er Schachteln.  
Wie viel Schachteln werden voll?

Skizze



R							



Oma hat 70 Kekse gebacken. Jedes ihrer 10 Enkelkinder bekommt gleich viele. Wie viele Kekse bekommt jedes Kind?

Skizze

R							



Oma hat 90 Kekse gebacken. Jedes ihrer 10 Enkelkinder bekommt gleich viele. Wie viele Kekse bekommt jedes Kind?



Skizze

R							



Oma hat 50 Kekse gebacken. Jedes ihrer 10 Enkelkinder bekommt gleich viele. Wie viele Kekse bekommt jedes Kind?

Skizze

R							





Mama pflanzt Tomaten. In eine Reihe kommen 5 Stück.  
Wie viele Reihen werden bei 40 Pflanzen voll?

Skizze

R							



Mama pflanzt Tomaten. In eine Reihe kommen 5 Stück.  
Wie viele Reihen werden bei 30 Pflanzen voll?



Skizze

R							



Mama pflanzt Tomaten. In eine Reihe kommen 5 Stück.  
Wie viele Reihen werden bei 25 Pflanzen voll?

Skizze

R							



Beim Faschingsumzug wurden 50 Bonbons gesammelt. Sie werden auf 5 Kinder aufgeteilt. Wie viele Bonbons bekommt jeder?

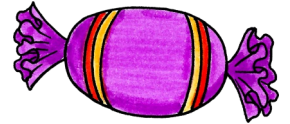
Skizze

R							


Beim Faschingsumzug wurden 45 Bonbons gesammelt. Sie werden auf 5 Kinder aufgeteilt. Wie viele Bonbons bekommt jeder?



Skizze

R							


Beim Faschingsumzug wurden 35 Bonbons gesammelt. Sie werden auf 5 Kinder aufgeteilt. Wie viele Bonbons bekommt jeder?

Skizze

R							


An der Wäscheleine hängen 20 Socken.  
Wie viele Paare sind das?

Skizze

R									


An der Wäscheleine hängen 14 Socken.  
Wie viele Paare sind das?



Skizze

R									


An der Wäscheleine hängen 16 Socken.  
Wie viele Paare sind das?

Skizze

R									


Zwei Kinder haben 18 Spielzeugautos. Wie viele Autos bekommt jeder, wenn sie diese gerecht aufteilen?

Skizze

R							



Zwei Kinder haben 12 Spielzeugautos. Wie viele Autos bekommt jeder, wenn sie diese gerecht aufteilen?



Skizze

R							



Zzwei Kinder haben 10 Spielzeugautos. Wie viele Autos bekommt jeder, wenn sie diese gerecht aufteilen?

Skizze

R							



Mama bezahlt 18 Euro für ein T-Shirt. Oma bezahlt im Ausverkauf nur die Hälfte. Wie viel bezahlt Oma?

Skizze

R							



Mama bezahlt 14 Euro für ein T-Shirt. Oma bezahlt im Ausverkauf nur die Hälfte. Wie viel bezahlt Oma?



Skizze

R							



Mama bezahlt 16 Euro für ein T-Shirt. Oma bezahlt im Ausverkauf nur die Hälfte. Wie viel bezahlt Oma?

Skizze

R							



Clara hat 8 Schokoriegel. Sie teilt sie mit ihrer Schwester und jeder bekommt die Hälfte. Wie viele sind das?

Skizze

R							





Clara hat 12 Schokoriegel. Sie teilt sie mit ihrer Schwester und jeder bekommt die Hälfte. Wie viele sind das?

Skizze

R							



Clara hat 6 Schokoriegel. Sie teilt sie mit ihrer Schwester und jeder bekommt die Hälfte. Wie viele sind das?

Skizze

R							



Eine Schachtel Magnete kostet 4 Euro.

Wie viele Schachteln kann man mit 36 Euro kaufen?

Skizze

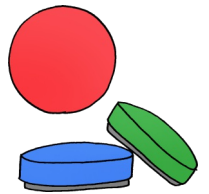
R							


Eine Schachtel Magnete kostet 4 Euro.

Wie viele Schachteln kann man mit 24 Euro kaufen?



Skizze

R							


Eine Schachtel Magnete kostet 4 Euro.

Wie viele Schachteln kann man mit 16 Euro kaufen?

Skizze

R							


Mama hat 32 Fischstäbchen gekocht.

Wie viel Stück bekommt jedes Mitglied der 4köpfigen Familie?

Skizze

R							





Mama hat 28 Fischstäbchen gekocht.

Wie viel Stück bekommt jedes Mitglied der 4köpfigen Familie?

Skizze

R							



Mama hat 20 Fischstäbchen gekocht.

Wie viel Stück bekommt jedes Mitglied der 4köpfigen Familie?

Skizze

R							






An einer Bluse sind 8 Knöpfe. Wie viele Blusen kann man mit 32 Knöpfen fertig machen?

Skizze

R							





An einer Bluse sind 8 Knöpfe. Wie viele Blusen kann man mit 48 Knöpfen fertig machen?

Skizze

R							



An einer Bluse sind 8 Knöpfe. Wie viele Blusen kann man mit 56 Knöpfen fertig machen?

Skizze

R							




Die Lehrerin hat 24 Rechnungen vorbereitet. Wie viele Rechnungen darf jedes der 8 Kinder an der Tafel rechnen?

Skizze

R							

Die Lehrerin hat 16 Rechnungen vorbereitet. Wie viele Rechnungen darf jedes der 8 Kinder an der Tafel rechnen?

Skizze

R							


Die Lehrerin hat 8 Rechnungen vorbereitet. Wie viele Rechnungen darf jedes der 8 Kinder an der Tafel rechnen?

Skizze

R							


Emma hat 24 Kekse. Wie viele Kekse darf sie an einem Tag essen, wenn die Kekse für 3 Tage reichen sollen?

Skizze

R							



Emma hat 18 Kekse. Wie viele Kekse darf sie an einem Tag essen, wenn die Kekse für 3 Tage reichen sollen?



Skizze

R							



Emma hat 15 Kekse. Wie viele Kekse darf sie an einem Tag essen, wenn die Kekse für 3 Tage reichen sollen?

Skizze

R							



Melanie hat 21 Murmeln in 3 Farben. Wie viele Murmeln sind das in jeder Farbe, wenn es immer gleich viele sind?

Skizze

R							


Melanie hat 27 Murmeln in 3 Farben. Wie viele Murmeln sind das in jeder Farbe, wenn es immer gleich viele sind?



Skizze

R							


Melanie hat 30 Murmeln in 3 Farben. Wie viele Murmeln sind das in jeder Farbe, wenn es immer gleich viele sind?

Skizze

R							


In eine kleine Schachtel passen 6 Äpfel. Wie viele Schachteln kann man mit 42 Äpfeln füllen?


Skizze



R							

In eine kleine Schachtel passen 6 Äpfel. Wie viele Schachteln kann man mit 54 Äpfeln füllen?

Skizze




R							



In eine kleine Schachtel passen 6 Äpfel. Wie viele Schachteln kann man mit 30 Äpfeln füllen?

Skizze



R							

Heute machen 36 Personen eine Kutschenfahrt. In eine Kutsche passen immer 6 Personen. Wie viele Kutschen braucht man?

Skizze

R							



Heute machen 12 Personen eine Kutschenfahrt. In eine Kutsche passen immer 6 Personen. Wie viele Kutschen braucht man?

Skizze

R							





Heute machen 24 Personen eine Kutschenfahrt. In eine Kutsche passen immer 6 Personen. Wie viele Kutschen braucht man?

Skizze

R							



In einer Reihe wachsen 9 Rosen. Wie viele Reihen kann man mit 45 Rosen füllen?

Skizze

R								





In einer Reihe wachsen 9 Rosen. Wie viele Reihen kann man mit 81 Rosen füllen?

Skizze

R								



In einer Reihe wachsen 9 Rosen. Wie viele Reihen kann man mit 72 Rosen füllen?

Skizze

R								



Der Clown hat 90 Bonbons. Wie viele bekommt jedes der 9 Kinder, wenn sie gerecht verteilt werden?

Skizze

R									



Der Clown hat 63 Bonbons. Wie viele bekommt jedes der 9 Kinder, wenn sie gerecht verteilt werden?



Skizze

R									



Der Clown hat 99 Bonbons. Wie viele bekommt jedes der 9 Kinder, wenn sie gerecht verteilt werden?

Skizze

R									






Mama hat 70 Windeln gekauft. Wie viele Windeln darf sie an einem Tag verwenden, wenn es für die ganze Woche reichen soll?

Skizze

R							





Mama hat 35 Windeln gekauft. Wie viele Windeln darf sie an einem Tag verwenden, wenn es für die ganze Woche reichen soll?

Skizze

R							



Mama hat 49 Windeln gekauft. Wie viele Windeln darf sie an einem Tag verwenden, wenn es für die ganze Woche reichen soll?

Skizze

R							



7 Schokoriegel passen in eine Packung. Wie viele Packungen werden mit 21 Riegeln voll?

Skizze

R							



7 Schokoriegel passen in eine Packung. Wie viele Packungen werden mit 28 Riegeln voll?

Skizze

R							

7 Schokoriegel passen in eine Packung. Wie viele Packungen werden mit 56 Riegeln voll?

Skizze

R							